

1. 表計算

1-1. 作表・書式

問題 1. 以下の文に従って作表しましょう。

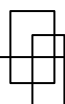
1. 下記の表を作成、編集しましょう。
2. それぞれの答えを求めましょう。(網掛け部分)

計算式練習 1

30	40	加算	
40	20	減算	
80	10	乗算	
100	10	除算	
40	30	加算	
20	40	減算	
10	80	乗算	
1000	100	除算	

計算式練習 2

底辺	高さ	上底	下底
20	10	10	20
三角形面積		台形面積	



1. 表計算

1-1. 作表・書式

問題 2. 以下の文に従って作表しましょう。

1. 下記の表『お中元好適品一覧表』を作成しましょう。

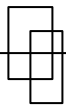
- ・ 表題はフォント 11 ポイント、表中は 10 ポイント
- ・ 項目・商品コードは中央揃え
- ・ 表題太字・中央揃え

2. 消費税・合計をそれぞれ求めましょう。(網掛け部分) <消費税率 5% >

- ・ 書式は価格と同じ円マーク付きカンマ表示

お中元好適品一覧表

商品コード	商品名	価格	消費税	合計
A0001	サラダ油セット	¥3,500		
A0002	コーヒー・紅茶詰め合わせ	¥4,500		
A0003	スモークサーモン	¥6,500		
A0004	ロースハム	¥5,000		
A0005	乳製品詰め合わせ	¥4,000		
A0006	手延べそうめん	¥3,500		
A0007	石鹸・洗剤詰め合わせ	¥5,500		



1. 表計算

1-1. 作表・書式

問題 3. 以下の文に従って作表しましょう。

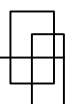
1. 下記の表『保養所利用状況』を作成しましょう。

- ・ フォント 10 ポイント
- ・ 表題太字・中央揃え
- ・ 数値以外中央揃え
- ・ 数値をカンマ表示

2. 合計を求めましょう。(網掛け部分)

保養所利用状況

	3月	4月	5月	合計
箱根	1087	458	677	
伊東	65	34	183	
河口湖	352	482	521	
清里	1225	356	894	



1. 表計算

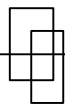
1-1. 作表・書式

解答 問題 1.

	A	B	C	D	E
1	■計算式練習1				
2	30	40	加算	70	
3	40	20	減算	20	
4	80	10	乗算	800	
5	100	10	除算	10	
6	40	30	加算	70	
7	20	40	減算	-20	
8	10	80	乗算	800	
9	1000	100	除算	10	
10					
11					
12	■計算式練習2				
13	底辺	高さ	上底	下底	
14	20	10	10	20	
15	三角形面積	100	台形面積	150	
16					
17					

解答 問題 2.

	A	B	C	D	E
1					
2	お中元好適品一覧表				
3	商品コード	商品名	価格	消費税	合計
4	A0001	サラダ油セット	¥3,500	¥175	¥3,675
5	A0002	コーヒー・紅茶詰め合わせ	¥4,500	¥225	¥4,725
6	A0003	スモークサーモン	¥6,500	¥325	¥6,825
7	A0004	ロースハム	¥5,000	¥250	¥5,250
8	A0005	乳製品詰め合わせ	¥4,000	¥200	¥4,200
9	A0006	手延べそうめん	¥3,500	¥175	¥3,675
10	A0007	石鹸・洗剤詰め合わせ	¥5,500	¥275	¥5,775
11					
12					
13					



1. 表計算

1-1. 作表・書式

解答 問題 3.

	A	B	C	D	E	
1						
2	保養所利用状況					
3		3月	4月	5月	合計	
4	箱根	1,087	458	677	2,222	
5	伊東	65	34	183	282	
6	河口湖	352	482	521	1,355	
7	清里	1,225	356	894	2,475	
8						
9						